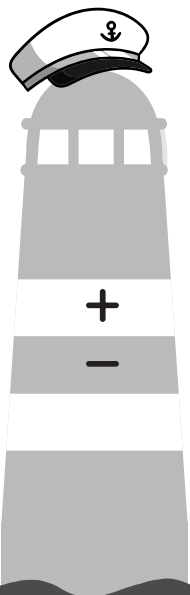


# Steeds Beter Rekenen





## **Steeds Beter Rekenen** **schrift 7B**

Redactie: Bouwienke Woltjer (Schoolsupport)  
i.s.m. Gerda Broekstra (De Schrijfvriend)  
Vormgeving cover: Marino Pollet  
Vormgeving binnenwerk: Schoolsupport

© Uitgeverij Schoolsupport  
© De Schrijfvriend (voor de schrijfinstructies en- oefening)

[info@schoolsupport.nl](mailto:info@schoolsupport.nl)  
[www.schoolsupport.nl/steedsbeter](http://www.schoolsupport.nl/steedsbeter)

# Overzicht rekenbewerkingen

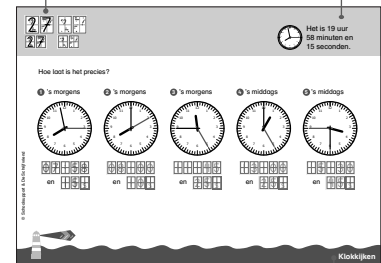


doen     gedaan


| Optellen en aftrekken over de 1000 |  |                          |                          |
|------------------------------------|--|--------------------------|--------------------------|
| 1-4                                | Cijferend optellen en aftrekken          | <input type="checkbox"/> | <input type="checkbox"/> |
| 5-8                                | Optellen en aftrekken met schatten       | <input type="checkbox"/> | <input type="checkbox"/> |
| Geld                               |  |                          |                          |
| 9-10                               | Korting                                  | <input type="checkbox"/> | <input type="checkbox"/> |
| 11-12                              | Geldbedragen en rente                    | <input type="checkbox"/> | <input type="checkbox"/> |
| 13-14                              | Winst, verlies en wisselkoersen          | <input type="checkbox"/> | <input type="checkbox"/> |
| Lengtematen, inhoud en gewicht     |  |                          |                          |
| 15-16                              | Lengtematen omrekenen                    | <input type="checkbox"/> | <input type="checkbox"/> |
| 17-18                              | Inhoudsmaten omrekenen - liters          | <input type="checkbox"/> | <input type="checkbox"/> |
| 19-20                              | Oppervlakte en omtrek                    | <input type="checkbox"/> | <input type="checkbox"/> |
| 21-22                              | Inhoudsmaten omrekenen - kubieke meters  | <input type="checkbox"/> | <input type="checkbox"/> |
| 23-24                              | Gewicht omrekenen                        | <input type="checkbox"/> | <input type="checkbox"/> |
| Temperatuur                        |  |                          |                          |
| 25-26                              | Temperatuur                              | <input type="checkbox"/> | <input type="checkbox"/> |
| Klokkijken                         |  |                          |                          |
| 27-28                              | Klokkijken met uren, minuten en seconden | <input type="checkbox"/> | <input type="checkbox"/> |
| 29-30                              | Tijdzones                                | <input type="checkbox"/> | <input type="checkbox"/> |
| Verhoudingen                       |  |                          |                          |
| 31-34                              | Verhoudingen en verhoudingstabellen      | <input type="checkbox"/> | <input type="checkbox"/> |
| Breuken en procenten               |  |                          |                          |
| 35-36                              | Breuken vergelijken en gelijknamig maken | <input type="checkbox"/> | <input type="checkbox"/> |
| 37-38                              | Breuken optellen en aftrekken            | <input type="checkbox"/> | <input type="checkbox"/> |
| 39-43                              | Breuken en procenten                     | <input type="checkbox"/> | <input type="checkbox"/> |

nummer oefening

uitleg



rekenbewerking



Schrijf het (uitgebreide) antwoord in je rekenschrift met hokjes. (uitgebreide notaties bij cijferen kunnen ook in je schrift met hokjes)

# Zo werk jij in je Steeds Beter Rekenen schrift

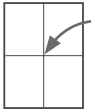
**Ga recht door zee, daar helpen we je mee!**

**Met zelfvertrouwen leer jij rekenen, als je alle cijfers goed kan schrijven.**

## **Belangrijk om te weten:**

- ⊗ Schrijf altijd één cijfer in één rekenhokje;
- ⊗ Cijfers starten boven in het rekenhokje, behalve de 8 (start in het midden);
- ⊗ Cijfers staan altijd netjes midden in het rekenhokje: ze raken de randen van het hokje niet. Zo komen ze niet met elkaar in 'botsing'.

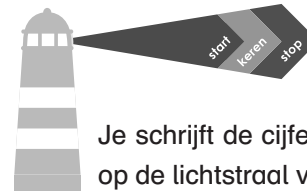
## **Wat is het midden van het rekenhokje?**



Je ziet in elk rekenhokje nog twee dunne lijntjes, die samen het midden aangeven. Als je goed op het midden let, komt elk cijfer netjes in het hokje.

Bij de voorbeeldcijfers staan ook pijlen, die de richting aangeven. Oefen altijd eerst bovenaan de bladzijde met het schrijven van de cijfers en maak dan de rekenopdracht. Zo leer je steeds beter schrijven en rekenen!

## **Hoe schrijf je het cijfer netjes in het rekenhokje?**



De boot vaart altijd in de goede richting, als de boot op de lichtstraal van de vuurtoren let.

Je schrijft de cijfers in de goede richting, als je ook op de lichtstraal van de vuurtoren let.

**Donkerblauw startpunt:** start hier met schrijven van het cijfer.

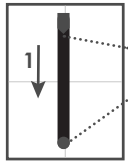
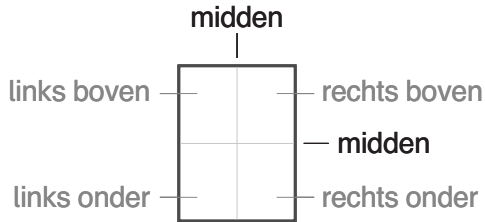
**Lichtblauwe stip:** potlood de andere kant op of keren.

**Rode stip:** het cijfer is klaar.

## **Herhalen zorgt voor beter rekenen!**

- ⊗ Maak de sommen eerst in klad, daarna in het net.
- ⊗ Werken in klad kan met potlood, gum en ook met het *Steeds Beter Schrift* (overtrekschrift).
- ⊗ Kijk de oefening zelf na met het antwoordschrift.

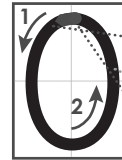
# Zo schrijf jij de cijfers goed



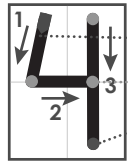
- Start midden boven
- Stop midden beneden




- Start links boven
- Schuin door het midden
- Stop rechts onder



- Start boven midden
- Cirkel om het midden heen
- Stop boven midden



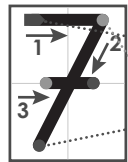
- Start links boven
- Rechte lijn in het midden en nieuwe lijn rechtsboven
- Stop rechts onder



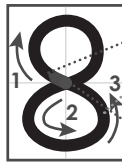
- Start links boven
- Tik midden aan en maak ronde lijn naar rechts
- Stop links onder en maak daarna een streepje



- Start rechts boven
- Cirkel aan de onderkant
- Stop links onder



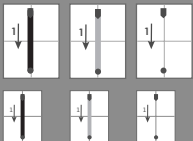
- Start links boven
- Schuin door het midden
- Stop links onder en maak daarna streepje



- Start midden
- Cirkel onder en boven
- Stop midden



- Start rechts boven
- Cirkel boven
- Stop links onder



Vul de som verder aan.

1

|   |  |   |   |   |   |   |   |   |
|---|--|---|---|---|---|---|---|---|
|   |  | 2 | 2 | 2 | 6 | 4 | 1 | 3 |
| + |  | 3 | 3 | 7 | 3 | 5 | 2 | 1 |
|   |  | 5 | 5 | 9 | 9 | 9 | 3 | 4 |

|   |  |   |   |   |   |   |   |   |
|---|--|---|---|---|---|---|---|---|
|   |  | 4 | 4 | 5 | 3 | 8 | 2 | 0 |
| + |  | 2 | 3 | 2 | 9 | 4 | 5 | 7 |
|   |  | 6 | 7 | 8 | 3 | 2 | 7 | 7 |

|   |  |   |   |   |   |   |   |   |
|---|--|---|---|---|---|---|---|---|
|   |  | 3 | 0 | 4 | 0 | 6 | 4 | 9 |
| + |  | 5 | 0 | 5 | 8 | 4 | 0 | 5 |
|   |  | 8 | 0 | 9 | 9 | 0 | 5 | 4 |

2

|   |  |   |   |   |   |   |   |   |
|---|--|---|---|---|---|---|---|---|
|   |  | 7 | 5 | 7 | 5 | 2 | 3 | 4 |
| + |  | 1 | 5 | 0 | 1 | 6 | 4 | 5 |
|   |  | 9 | 0 | 7 | 6 | 8 | 7 | 9 |

|   |  |   |   |   |   |   |   |   |
|---|--|---|---|---|---|---|---|---|
|   |  | 4 | 0 | 4 | 0 | 0 | 0 | 0 |
| + |  | 2 | 0 | 2 | 0 | 5 | 3 | 0 |
|   |  | 6 | 0 | 6 | 0 | 5 | 3 | 0 |

|   |  |   |   |   |   |   |   |   |
|---|--|---|---|---|---|---|---|---|
|   |  | 4 | 3 | 4 | 3 | 4 | 2 | 6 |
| + |  | 4 | 0 | 2 | 0 | 3 | 5 | 4 |
|   |  | 8 | 3 | 6 | 3 | 7 | 8 | 0 |





Vul de som verder aan.

1

|  |  |   |   |   |   |   |   |   |   |
|--|--|---|---|---|---|---|---|---|---|
|  |  | 7 | 0 | 8 | 3 | 9 | 7 | 6 |   |
|  |  | - | 5 | 0 | 5 | 2 | 4 | 5 | 4 |
|  |  | 2 | 0 | 3 | 1 | 5 | 2 | 2 |   |

|  |  |   |   |   |   |   |   |   |   |
|--|--|---|---|---|---|---|---|---|---|
|  |  | 9 | 0 | 9 | 5 | 4 | 8 | 6 |   |
|  |  | - | 8 | 0 | 7 | 5 | 3 | 0 | 6 |
|  |  | 1 | 0 | 2 | 0 | 1 | 8 | 0 |   |

|  |  |   |   |   |   |   |   |   |   |
|--|--|---|---|---|---|---|---|---|---|
|  |  | 5 | 6 | 3 | 8 | 4 | 8 | 9 |   |
|  |  | - | 1 | 6 | 3 | 6 | 4 | 5 | 0 |
|  |  | 4 | 0 | 0 | 2 | 0 | 3 | 9 |   |

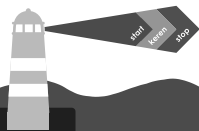


2

|  |  |   |   |   |   |   |   |   |   |
|--|--|---|---|---|---|---|---|---|---|
|  |  | 7 | 7 | 7 | 3 | 8 | 9 | 8 |   |
|  |  | - | 6 | 6 | 2 | 5 | 3 | 9 | 6 |
|  |  | 1 | 1 | 4 | 8 | 5 | 0 | 2 |   |

|  |  |   |   |   |   |   |   |   |   |
|--|--|---|---|---|---|---|---|---|---|
|  |  | 8 | 0 | 7 | 6 | 8 | 2 | 5 |   |
|  |  | - | 4 | 0 | 4 | 0 | 7 | 8 | 0 |
|  |  | 4 | 0 | 3 | 6 | 0 | 4 | 5 |   |

|  |  |   |   |   |   |   |   |   |   |
|--|--|---|---|---|---|---|---|---|---|
|  |  | 9 | 9 | 6 | 0 | 3 | 7 | 8 |   |
|  |  | - | 3 | 3 | 3 | 5 | 8 | 4 | 9 |
|  |  | 6 | 6 | 2 | 4 | 5 | 2 | 9 |   |





Schrijf de getallen onder elkaar in je rekenschrift en reken uit.



1

|   |  |   |   |   |   |   |   |   |
|---|--|---|---|---|---|---|---|---|
|   |  | 4 | 4 | 1 | 0 | 1 | 2 | 0 |
| - |  | 4 | 4 | 3 | 5 | 8 | 0 |   |
|   |  | 3 | 9 | 6 | 6 | 5 | 4 | 0 |

|   |  |   |   |   |   |   |   |   |
|---|--|---|---|---|---|---|---|---|
|   |  | 2 | 1 | 0 | 7 | 4 | 9 | 0 |
| - |  | 1 | 2 | 5 | 7 | 5 | 5 |   |
|   |  | 1 | 9 | 8 | 1 | 7 | 3 | 5 |

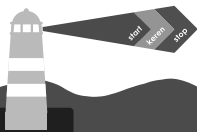
|   |  |   |   |   |   |   |   |   |
|---|--|---|---|---|---|---|---|---|
|   |  | 2 | 0 | 8 | 9 | 7 | 6 | 5 |
| - |  |   |   | 2 | 1 | 3 | 5 | 2 |
|   |  | 2 | 0 | 6 | 8 | 4 | 1 | 3 |

2

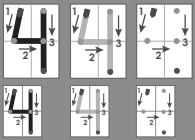
|   |  |   |   |   |   |   |   |
|---|--|---|---|---|---|---|---|
|   |  | 1 | 7 | 8 | 6 | 7 | 9 |
| - |  | 1 | 2 | 1 | 4 | 3 | 6 |
|   |  |   | 5 | 7 | 2 | 4 | 3 |

|   |  |   |   |   |   |   |   |
|---|--|---|---|---|---|---|---|
|   |  | 9 | 0 | 7 | 5 | 3 | 8 |
| - |  | 2 | 0 | 6 | 8 | 0 | 3 |
|   |  | 7 | 0 | 0 | 7 | 3 | 5 |

|   |  |   |   |   |   |   |   |   |
|---|--|---|---|---|---|---|---|---|
|   |  | 2 | 0 | 6 | 4 | 7 | 3 | 5 |
| - |  | 1 | 3 | 9 | 8 | 2 | 6 |   |
|   |  | 1 | 9 | 2 | 4 | 9 | 0 | 9 |







Schrijf de bedragen onder elkaar in je rekenschrift en reken uit.



1

|       |   |  |   |   |      |
|-------|---|--|---|---|------|
|       | € |  | 1 | 1 | 0,00 |
| -     | € |  |   |   | 7,05 |
| <hr/> |   |  |   |   |      |
|       | € |  | 1 | 0 | 2,95 |

|       |   |  |   |   |      |
|-------|---|--|---|---|------|
|       | € |  | 2 | 2 | 0,00 |
| -     | € |  | 1 | 1 | 2,75 |
| <hr/> |   |  |   |   |      |
|       | € |  | 1 | 0 | 7,25 |

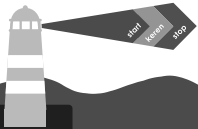
|       |   |  |   |   |      |
|-------|---|--|---|---|------|
|       | € |  | 8 | 5 | 0,00 |
| -     | € |  | 2 | 5 | 0,05 |
| <hr/> |   |  |   |   |      |
|       | € |  | 5 | 9 | 9,95 |

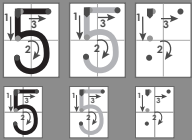
2

|       |   |   |   |   |      |
|-------|---|---|---|---|------|
|       | € | 5 | 0 | 5 | 0,50 |
| -     | € | 1 | 0 | 2 | 9,16 |
| <hr/> |   |   |   |   |      |
|       | € | 4 | 0 | 2 | 1,34 |

|       |   |   |   |   |      |
|-------|---|---|---|---|------|
|       | € | 3 | 8 | 3 | 8,50 |
| -     | € |   |   | 1 | 9,45 |
| <hr/> |   |   |   |   |      |
|       | € | 3 | 8 | 1 | 9,05 |

|       |   |   |   |   |      |
|-------|---|---|---|---|------|
|       | € | 6 | 6 | 6 | 4,85 |
| -     | € | 6 | 6 | 5 | 8,46 |
| <hr/> |   |   |   |   |      |
|       | € |   |   |   | 6,39 |





Verbind steeds een som met de juiste afronding.  
Welk antwoord hoort erbij?

|                        |                          |                   |           |            |
|------------------------|--------------------------|-------------------|-----------|------------|
| 2 683 378 + 1 328 454  | 13 000 000 + 7 500 000 = | 2 0 5 0 0 0 0 0 0 | antwoord: | 4 011 832  |
| 12 045 987 + 8 045 333 | 2 700 000 + 1 300 000 =  | 4 0 0 0 0 0 0 0 0 |           | 20 091 320 |
| 7 550 876 + 387 212    | 12 000 000 + 8 000 000 = | 2 0 0 0 0 0 0 0 0 |           | 20 212 879 |
| 12 689 445 + 7 523 434 | 77 000 000 + 3 000 000 = | 8 0 0 0 0 0 0 0 0 |           | 7 938 088  |
| 76 780 566 + 3 288 909 | 7 600 000 + 400 000 =    | 8 0 0 0 0 0 0 0 0 |           | 80 069 475 |

