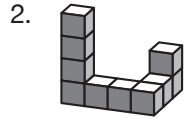




1. Petra het konijn heeft 20 wortels.

Ze eet elke dag 2 wortels. Ze eet de twaalfde wortel op woensdag.
Op welke dag at ze de eerste wortel?

● = maandag ● = dinsdag ● = woensdag ● = donderdag ● = vrijdag



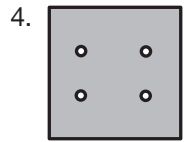
2. Tessa maakt het bouwwerk dat we hier getekend hebben.
Ze lijmt de 10 blokken aan elkaar vast. Ze verft het bouwwerk, ook de onderkant. Van hoeveel blokken heeft Tessa precies 4 vlakken geverfd?

● = 6 ● = 7 ● = 8 ● = 9 ● = 10

1	2	1	3
4	1	1	2
1	7	3	2
2	1	3	1

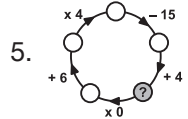
3. In een tabel staan getallen. Salma vindt een vierkant van 2 vakjes breed en 2 vakjes hoog waarin het totaal van de getallen het grootst is.
Wat is dat grootste totaal?

● = 11 ● = 12 ● = 13 ● = 14 ● = 15



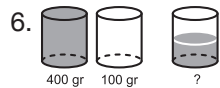
4. Bob heeft papier gevouwen. Hij heeft daarna 1 gat gemaakt in het papier.
Toen heeft hij het papier uitgevouwen. In het plaatje zie je het resultaat.
Hoe had Bob het papier gevouwen?

● = ● = ● = ● = ● =



5. Welk getal komt op de plaats van het vraagteken?

● = 10 ● = 11 ● = 12 ● = 13 ● = 14



6. Een vol glas water weegt 400 gram. Een leeg glas weegt 100 gram.
Hoeveel gram weegt een halfvol glas water?

● = 150 ● = 200 ● = 225 ● = 250 ● = 300

7. In een park zijn 15 dieren: koeien, katten en kangoeroes. Precies 10 dieren zijn geen koeien. Precies 8 dieren zijn geen katten. Hoeveel kangoeroes zijn er in het park?

● = 2 ● = 3 ● = 4 ● = 10 ● = 18

1		
	2	

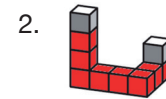
8. Loes schrijft getallen in een tabel. Van links naar rechts en van boven naar beneden gebruikt ze de getallen 1, 2 en 3 precies één keer.
Wat zijn de getallen van de 2 groene vierkanten samen?

● = 2 ● = 3 ● = 4 ● = 5 ● = 6



1. Terugtellen: woensdag wortel 11 en 12; dinsdag wortel 9 en 10; maandag wortel 7 en 8; zondag wortel 5 en 6; zaterdag wortel 3 en 4; vrijdag wortel 1 en 2.

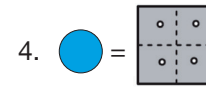
● = vrijdag



2. Een blok met 4 geverfde vlakken heeft 2 niet geverfde vlakken. Zo'n blok zit dus met 2 vlakken vast aan een ander blok. In het plaatje zie je zulke blokken rood gekleurd. ● = 8

3. ● = 14

1	2	1	3
4	1	1	2
1	7	3	2
2	1	3	1



5. Begin bij het gele rondje. Daar moet een 0 komen, want $0 \times$ een getal is altijd 0. Nu kun je de kring verder invullen. Je krijgt dan de rode getallen. ● = 13

6. Het water in een vol glas weegt $400 - 100 = 300$ gram. Het water in een halfvol glas $300 : 2 = 150$ gram. Een halfvol glas water weegt daarom 150 (het water) plus 100 (het glas) is 250 gram. ● = 250

7. In het park zijn $15 - 10 = 5$ koeien en $15 - 8 = 7$ katten. Er zijn in het park daarom $15 - 5 - 7 = 3$ kangoeroes. ● = 3

8. ● = 4

1	3	2
3	2	1
2	1	3

